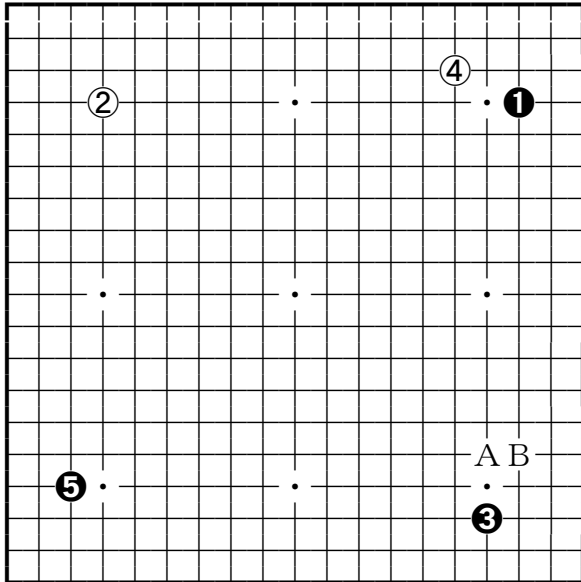


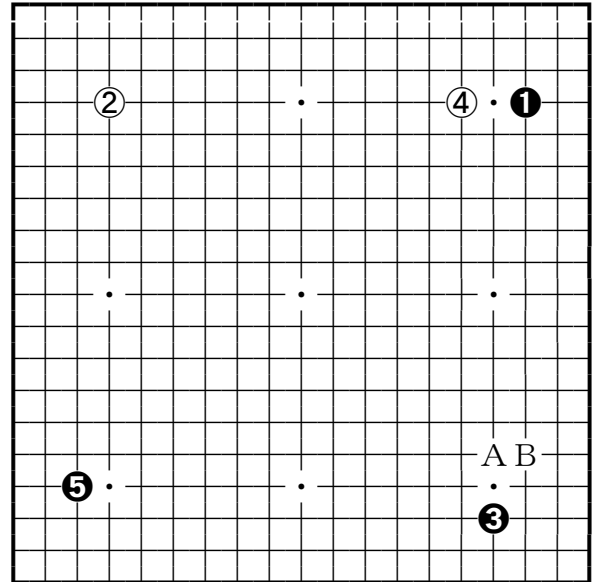
たけのこ塾講2012年 3月のテーマ「現代の秀策流」



3日・白右上ケイマガカリ

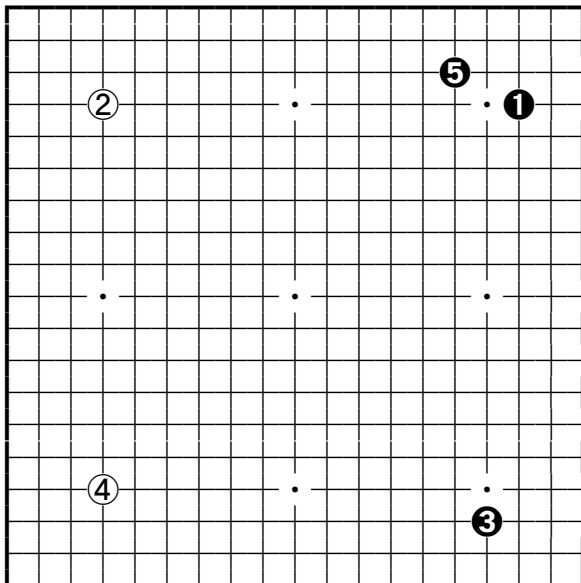
①～③に対し白は④とケイマにカカリを打って来ました。

⑤の小目に白AやBのカカリを打たれた時はどのような展開になると思いますか？



10日・白右上一間ガカリ

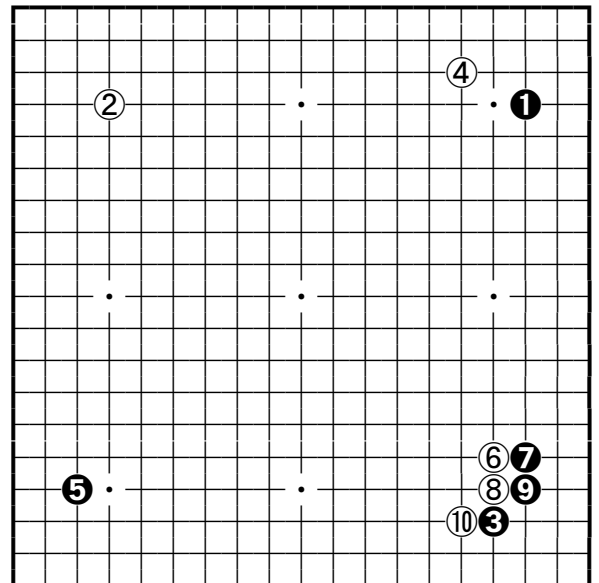
④の一間ガカリから白AやBとカカリを打って来られた時の黒の対策は？



17日・黒右上シマリ

白が④とアキ隅を占めれば⑤とシマリを打ち穏やかな布石となります。

この後の展開を考えて下さい。



24日・依田vs義行戦の解説

昭和61年に行われた第17回新鋭トーナメント戦準決勝、対依田(当時六段)戦の棋譜です。

この後黒はどう打てば良いと思いますか？